



۱- هر یک از موارد زیر مربوط به کدام یک از ویژگی های مشترک کارآفرینان موفق می شود؟ (متوسط - آزمون کانون، ۳۱ تیر ۱۴۰۱)

الف) نظم، انضباط، پایداری، اشتیاق و توانایی حل مسئله را دارند.

ب) منابع را به شکل کارایی مدیریت و هماهنگ می کنند.

پ) پس انداز و خوش نامی شان را با شجاعت و تدبیر به میدان می آورند تا فعالیت اقتصادی جدیدی را راه اندازی کنند.

ت) ایده ها را به محصولات جدید، فرایندها و یا کسب و کارهای جدید تبدیل می کنند.

۲) نوآور، یادگیرنده، تیزبین، خوش بین

۱) پرانگیزه، یادگیرنده، خوش بین، نوآور

۴) نوآور، یادگیرنده، ریسک پذیر، سازمان دهنده

۳) پرانگیزه، سازمان دهنده، ریسک پذیر، نوآور

۲- به ترتیب کدام گزینه دربردارنده پاسخ صحیح پرسش های زیر است؟ (دشوار - آزمون کانون، ۳۱ تیر ۱۴۰۱)

الف) کدام یک از گزینه های زیر به ویژگی تعاونی ها اشاره نمی کند؟

ب) کدام گزینه درباره موسسات غیرانتفاعی صحیح است؟

ج) کدام عبارت نشان دهنده یک کسب و کار شخصی است؟

۱) الف) هدف آن، تامین نیازمندی های اعضا است. ب) گاهی اوقات به انجام امور تجاری می پردازند. ج) گروهی از دوستان تصمیم گرفته اند کسب و کاری بدون عبور از فرایندهای طولانی آغاز کنند.

۲) الف) وجه اشتراک آن با شرکت ها، در مراحل راه اندازی می باشد. ب) محدوده عمل آنها تنها داخلی است. ج) شرکتهای جدید می خواهد مجموعه فروشگاه زنجیره ای از مواد غذایی سالم راه اندازی کند.

۳) الف) نحوه اداره تعاونی ها نیز مانند شرکت ها است. ب) سودآور نیست. ج) یکی از دانش آموختگان رشته آشپزی می خواهد رستورانی افتتاح کند.

۴) الف) توزیع سود احتمالی در پایان دوره به نسبت سرمایه هر عضو است. ب) هدف از تشکیل آن سهولت در تامین مالی و انجام امور است. ج) گروهی از کشاورزان می خواهند برای خرید کود، دانه و سایر مواد مرتبط به صورت عمده هزینه کنند و هزینه را در بین اعضا تقسیم کنند.

۳- به ترتیب کدام گزینه، «مزایای ایجاد شرکت»، «معایب شراکت» و «معایب ایجاد شرکت» را بیان می کند؟ (دشوار - آزمون کانون، ۳۱

(۱) مسئولیت کم نسبت به دیگران، مسئولیت نامحدود در مقابل دعاوی، تخصص گرایی بیشتر

(۲) مسئولیت محدود برای سهامداران، مسئولیت نامحدود در مقابل بدهی ها، قوانین پیچیده تر و گزارش دهی بیشتر

(۳) تقسیم سود به تناسب مالکیت سهام، تصمیم گیری سخت تر، امکان رقابت بالاتر

(۴) امکان افزایش سرمایه و تامین مالی بانکی، راه اندازی نسبتا دشوار، تاخیر در تصمیم گیری

۴- موارد زیر به ترتیب به کدام نوع کسب و کار اشاره دارند؟ (دشوار - آزمون کانون، ۳۱ تیر ۱۴۰۱)

الف) گروهی از پرورش دهندگان کرم ابریشم می خواهند برای خرید مواد و سایر لوازم موردنیاز گرد هم آیند، به صورت عمده هزینه کنند و هزینه را در بین اعضا تقسیم کنند.

ب) دو مشاور می خواهند بدون عبور از فرایندهای قانونی طولانی، یک مرکز مشاوره تحصیلی تاسیس کنند.

ج) خانم خانه داری با هدف کسب درآمد در فضای مجازی، غذا و دسر خانگی خود را برای سفارش تبلیغ می کند.

د) گروهی از مدرسان تصمیم می گیرند تا موسسه ای بدون اهداف تجاری، جهت کمک به اقشار ضعیف در سطح شهر تاسیس کنند.

(۱ الف) شراکت ب) موسسه غیرانتفاعی ج) شخصی د) شرکت

(۲ الف) شرکت ب) شرکت ج) موسسه غیرانتفاعی د) شرکت

(۳ الف) تعاونی ب) شراکت ج) موسسه غیرانتفاعی د) شراکت

(۴ الف) تعاونی ب) شراکت ج) شخصی د) موسسه غیرانتفاعی

۵- هر یک از موارد زیر به کدام یک از اشتباهات رایج در تصمیم گیری اشاره دارد؟ (متوسط - آزمون کانون، ۳۱ تیر ۱۴۰۱)

الف) وقتی در حراج آخر فصل، کالایی را که چندان ضروری نبوده فقط به خاطر قیمت پایینش می خریم.

ب) زمانی که برای تامین هزینه های مصرف فعلی، زیر بار سنگین انواع بدهی می رویم.

ج) هنگامی که در سینما فیلمی را که دوست ندارید صرفا به خاطر پولی که داده اید تا آخرش می بینید.

(۱ الف) اثرگذاری حقه های فروش بر تصمیم گیری ها ب) بی صبری زیاد ج) توجه به هزینه های دررفته

(۲ الف) توجه به هزینه های دررفته ب) اعتماد به نفس بیش از حد ج) چسبیدن به وضعیت فعلی

(۳ الف) اثرگذاری حقه های فروش بر تصمیم گیری ها ب) خودرایی بودن ج) چسبیدن به وضعیت فعلی

(۴ الف) اثرگذاری حقه های فروش بر تصمیم گیری ها ب) اعتماد به نفس بیش از حد ج) توجه به هزینه های دررفته

۶- هر یک از موارد زیر به ترتیب چه وضعیتی را برای مرز امکانات تولید یک شرکت به وجود می آورند؟ (شرکت مورد نظر فقط دو کالای الف و ب را تولید می کند.) (دشوار - آزمون کانون، ۳۱ تیر ۱۴۰۱)

الف) کارفرما، پنج کارگر جدید را برای تولید کالای الف استخدام می کند.

ب) با افزایش تقاضای مشتریان، مقدار تولید کالای الف افزایش می یابد.

ج) شرکت تصمیم گرفته است تا کالای ب را بیشتر از کالای الف تولید کند.

د) منابع و مواد اولیه جدید، این اجازه را به شرکت می دهند تا هر دو محصول به مقدار بیشتری تولید شود.

۱) الف) انتقال منحنی مرز امکانات تولید ب) جا به جا شدن در طول منحنی مرز امکانات تولید ج) انتقال منحنی مرز امکانات تولید د) جا به جا شدن در طول منحنی مرز امکانات تولید

۲) الف) انتقال منحنی مرز امکانات تولید ب) جا به جا شدن در طول منحنی مرز امکانات تولید ج) انتقال منحنی مرز امکانات تولید د) انتقال منحنی مرز امکانات تولید

۳) الف) جا به جا شدن در طول منحنی مرز امکانات تولید ب) جا به جا شدن در طول منحنی مرز امکانات تولید ج) جا به جا شدن در طول منحنی مرز امکانات تولید د) انتقال منحنی مرز امکانات تولید

۴) الف) جا به جا شدن در طول منحنی مرز امکانات تولید ب) انتقال منحنی مرز امکانات تولید ج) جا به جا شدن در طول منحنی مرز امکانات تولید د) انتقال منحنی مرز امکانات تولید

۷- پاسخ صحیح سوالات زیر در ارتباط با رفتار اقتصادی مصرف کنندگان، به ترتیب در کدام گزینه آمده است؟ (متوسط - آزمون کانون، ۱۴ مرداد ۱۴۰۱)

الف) زمانی که قیمت یک کالای معمولی افزایش می یابد، میزان تقاضای مردم برای خرید این کالا چه تغییری می کند؟

ب) با فرض ثابت بودن قیمت کالا، تقاضا برای کالای پست با افزایش درآمد چه تغییری می کند؟

ج) در صورتی که قیمت بنزین در یک کشور فرضی افزایش یابد، کدام گزینه در این رابطه صحیح است؟

۱) الف) افزایش می یابد. ب) تقاضای مردم افزایش خواهد یافت. ج) قیمت اتومبیل کاهش خواهد یافت.

۲) الف) کاهش می یابد. ب) تقاضای مردم کاهش خواهد یافت. ج) تقاضا برای اتومبیل کاهش خواهد یافت.

۳) الف) افزایش می یابد. ب) تقاضای مردم کاهش خواهد یافت. ج) قیمت اتومبیل افزایش خواهد یافت.

۴) الف) کاهش می یابد. ب) تقاضای مردم افزایش خواهد یافت. ج) تقاضا برای اتومبیل افزایش خواهد یافت.



- ۱) کدام گزینه از ویژگی‌های تاریخ نگاری جدید در ایران محسوب نمی‌شود؟
- (۱) بهره‌برداری از منابع و اسناد و مدارک معتبر
- (۲) استفاده از روش تحقیق علمی
- (۳) بیان یافته‌های تاریخی با زبانی ساده
- (۴) سنجش و گزینش اسناد با استفاده از سایر علوم تجربی

شهرید عبداللّٰه رئیسی

SHERR

۲ کدام گزینه از جمله دلایل ضعف اداری و دیوانی ایران در عصر افشاریه و زندیه محسوب نمی شود؟

(۱) حاکمیت عناصر ایللی
(۲) غلبه تفکر نظامی گری
(۳) بی ثباتی اقتصادی
(۴) کوتاه بودن عمر سلسله های افشاریه و زندیه

شهید عبداللّٰه رئیسی

SHER

کدام اقدام سرآغاز جنگ‌های ایران و روسیه به حساب می‌آید؟

۳

- ۱) لشکرکشی روس‌ها به قفقاز و تصرف گرجستان به بهانه حمایت از حاکم گرجستان
- ۲) اهداف توسعه‌طلبانه روسیه برای رسیدن به آب‌های آزاد
- ۳) اقتدار نظامی نادر و آقامحمدخان و عقب‌نشینی کوتاه‌مدت روس‌ها
- ۴) بی‌کفایتی فتحعلی شاه در نظارت بر مرزهای شمالی ایران

شهید عبداللّٰه رئیسی


SHER

۴ در میان تمدن‌های نخستین، کدام تمدن به سبب موقعیت ویژه جغرافیایی خود، کم‌تر تحت تأثیر و نفوذ خارجی بوده است؟
۱) مصر ۲) هند ۳) بین‌النهرین ۴) چین

۵ وجود برخی اشیای متعلق به مراکز تمدنی ایران و بین‌النهرین در کشفیات موهنجودارو و هاراپا، نشان از چیست؟
۱) مهاجرت گسترده آریاییان در سراسر این مناطق
۲) نشان می‌دهد این مراکز با یک‌دیگر دادوستد داشته‌اند.
۳) زواج فنون و مهارت ساکنان بین‌النهرین در تمدن دره سند
۴) گسترش روابط تجاری در سراسر این مناطق و اشاعه فنون و مهارت‌ها.

شهید عبداللّٰه رئیسی

SHER

- 
- ۶) کدام مورد، از تفاوت‌های میان اعتقادات دینی سومریان و مصریان باستان است؟
- ۱) مردم مصر، خدایان خود را مهربان‌تر و دوستانه‌تر از خدایان سومری می‌پنداشتند.
 - ۲) مردم سومر، خدایان متعددی داشتند که تعداد آن‌ها بسیار بیشتر از خدایان مصری بود.
 - ۳) مردم سرزمین مصر برعکس مردم سومر، برای خدایان معابد باشکوه می‌ساختند.
 - ۴) در مصر برخلاف سومر، کاهنان به عنوان واسطه‌ی میان مردم و خدایان عمل می‌کردند.

- ۷) آخرین مرحله قبل از شکل‌گیری شهرها و تأسیس تمدن چیست؟
- ۱) شکل‌گیری تجارت
 - ۲) تخصصی شدن کار
 - ۳) تولید مازاد بر نیاز
 - ۴) یکجانشینی و به وجود آمدن روستاها

شهادت عبدالله رئیس‌دی

SHER

۸) باستان‌شناسان با مقایسه آثار و بناهای باستانی در زمان‌های مختلف چه هدفی دارند؟
۱) درک سیر پیشرفت‌های فنی، هنری و فرهنگی مردمان گذشته
۲) توضیح روابط جوامع گذشته و تأثیرات فرهنگی و اقتصادی آنها بر یکدیگر
۳) ترسیم فضای اجتماعی و فرهنگی جوامع براساس شواهد و مدارک باستانی
۴) بیان چگونگی شکل‌گیری و از میان رفتن آثار و بناها در دوره‌های مختلف تاریخی

۹) باستان‌شناسان با مقایسه آثار و بناهای باستانی در زمان‌های مختلف چه هدفی دارند؟
۱) درک سیر پیشرفت‌های فنی، هنری و فرهنگی مردمان گذشته
۲) توضیح روابط جوامع گذشته و تأثیرات فرهنگی و اقتصادی آنها بر یکدیگر
۳) ترسیم فضای اجتماعی و فرهنگی جوامع براساس شواهد و مدارک باستانی
۴) بیان چگونگی شکل‌گیری و از میان رفت آثار و بناها در دوره‌های مختلف تاریخی

۱۰) باستان‌شناسان از کدام طریق می‌کوشند تا سیر پیشرفت‌های فنی، هنری و فرهنگی مردمان گذشته را درک کنند؟
۱) مقایسه آثار و بناهای باستانی در زمان‌های مختلف
۲) مطالعه نظام اجتماعی، باورها، فرهنگ و وضعیت اقتصادی مردمان و جوامع
۳) مقایسه آثار و بناهای باستانی سرزمین‌ها و تمدن‌های گوناگون
۴) مطالعه روابط جوامع گذشته و تأثیرات فرهنگی آنها بر یکدیگر

سهرید عبدالله رئیس‌دی

۱) کدام گزینه پاسخ صحیح جدول زیر می‌باشد؟ (به ترتیب از راست به چپ)

الف	دانایی از نادانی بهتر است.
ب	آن دسته از پدیده‌های مطلوب و خواستی که مورد توجه و پذیرش همگان هستند.
ج	عدالت، دفاع از کشور، مهربانی و عطف
د	شیوه انجام کنش اجتماعی که مورد قبول افراد جامعه قرار گرفته است.

- ۱) ارزش - ارزش - ارزش - ارزش - هنجار
 ۲) ارزش - هنجار - ارزش - ارزش - هنجار
 ۳) هنجار - ارزش - ارزش - ارزش - ارزش
 ۴) هنجار - ارزش - ارزش - ارزش - هنجار

۲) کدام گزینه با عبارت‌های زیر در ارتباط است؟

الف- پدیده‌های مطلوب و خواستی که مورد توجه و پذیرش هستند.
 ب- از جنس هدف و مقصود هستند.

- ۱) هنجار اجتماعی - ارزش‌ها
 ۲) هنجار اجتماعی - هنجار اجتماعی
 ۳) ارزش اجتماعی - ارزش اجتماعی
 ۴) ارزش اجتماعی - هنجار اجتماعی

۳) در کنش اجتماعی، و کنشگر ناظر به دیگران، ویژگی‌ها و اعمال آنها است و کنش اجتماعی تنها

در حضور فیزیکی دیگران

- ۱) آگاهی - اراده - صورت نمی‌گیرد
 ۲) تصور - تفکر - صورت می‌گیرد
 ۳) آگاهی - تفکر - انجام می‌شود
 ۴) تصور - اراده - انجام نمی‌شود

۴ با توجه به موارد زیر، چند مورد بیانگر پیامد ارادی کنش انسانی است؟

الف- ناراحتی پس از فوت مادر

ب- تندرستی پس از ورزش

ج- پاسخ دادن به سوالات امتحانی بعد از مطالعه کتاب درسی

د- پاسخ دادن به سلام

ه- بیماری تنفسی ناشی از سیگار

و- افسردگی بعد از طلاق

۲ (۱)

۱ (۲)

۳ (۳)

۵ (۴)

۵ به کنش اجتماعی و پیامدهای آن می‌گویند.

(۱) کنش بیرونی (۲) جهان اجتماعی (۳) جامعه‌پذیری (۴) پدیده اجتماعی

۶ هر یک از عبارات زیر، به ترتیب به تأثیر کدام جهان‌ها بر یک‌دیگر اشاره دارد؟

- آلودگی طبیعت و محیط زیست، نتیجه فعالیت‌های شتابزده و نابخردانه‌ی انسان است.

- انسان‌ها برای مقابله با خشکسالی، ابزارها و سیلوهایی بنا می‌کنند.

- شناخت خداوند و فرشتگان، آومان‌ها و ارزش‌های زندگی آدمیان را تغییر می‌دهد.

(۱) جهان اجتماعی بر جهان طبیعی - جهان طبیعی بر جهان اجتماعی - جهان ماوراء طبیعی بر جهان اجتماعی

(۲) جهان طبیعی بر جهان اجتماعی - جهان اجتماعی بر جهان طبیعی - جهان ماوراء طبیعی بر جهان اجتماعی

(۳) جهان اجتماعی بر جهان طبیعی - جهان طبیعی بر جهان اجتماعی - جهان ماوراء طبیعی بر جهان اجتماعی

(۴) جهان طبیعی بر جهان اجتماعی - جهان طبیعی بر جهان اجتماعی - جهان ماوراء طبیعی بر جهان اجتماعی

۷ هر یک از عبارات زیر به ترتیب، مربوط به کدام بخش جدول است؟

	الف		ب
ج		د	شهادت عبد الله

- فردی نمی‌تواند به زبان جدید صحبت کند.

- دانش‌آموزی برای اجازه خواستن از معلم، دست خود را بالا می‌آورد و معلم پاسخ مناسب به او می‌دهد.

- تا اراده و خواست انسان نباشد کنشی صورت نمی‌گیرد.

- فعالیت انسان با قصد و هدف خاصی انجام می‌شود.

(۱) ب - د - الف - ج (۲) ج - الف - د - ب (۳) ب - د - ج - الف (۴) ج - الف - ب - د

۸

- فرآیند شکل‌گیری پدیده‌های اجتماعی خرد و کلان در کدام گزینه به درستی نشان داده شده است؟
- ۱) هنجارها و ارزش‌های اجتماعی ← کنش اجتماعی ← انتقال ارزش‌ها و هنجارها به افراد ← جامعه‌پذیری و کنترل اجتماعی ← کنش افراد براساس ارزش‌ها و هنجارها ← شکل‌گیری پدیده‌های اجتماعی خرد و کلان
 - ۲) کنش اجتماعی ← ارزش‌ها و هنجارهای اجتماعی ← جامعه‌پذیری و کنترل اجتماعی ← انتقال ارزش‌ها و هنجارها از طریق تعلیم و تربیت ← کنش افراد براساس ارزش‌ها و هنجارها و تداوم آنها ← شکل‌گیری پدیده‌های اجتماعی خرد و کلان
 - ۳) هنجارها و ارزش‌های اجتماعی ← کنش اجتماعی ← شکل‌گیری عدالت، امنیت و آزادی ← کنش افراد براساس ارزش‌ها و هنجارها و تداوم آنها ← شکل‌گیری پدیده‌های اجتماعی خرد و کلان
 - ۴) کنش اجتماعی ← جامعه‌پذیری و کنترل اجتماعی ← ارزش‌ها و هنجارهای اجتماعی ← انتقال ارزش‌ها و هنجارها از طریق تعلیم و تربیت ← شکل‌گیری پدیده‌های اجتماعی خرد و کلان

۹

- کدام گزینه به ترتیب، در ارتباط با «کنش انسان» و «پدیده‌های اجتماعی» درست است؟
- ۱) کنش انسان همانند فعالیت سایر مخلوقات معنادار است - پدیده‌های اجتماعی همانند پدیده‌های طبیعی هستند و افراد حس می‌کنند که از یک‌دیگر مستقل‌اند.
 - ۲) افراد در همه‌ی موارد به آگاهی موجود در کنش‌هایشان توجه دارند و از آن باخبرند - پدیده‌های اجتماعی را انسان‌ها در ارتباط با یک‌دیگر به وجود می‌آورند و معنا دارند.
 - ۳) رعایت حیا و کنترل خشم، هر دو کنش‌اند - به مرور به انسان‌هایی که آنها را به وجود آورده‌اند، وابسته می‌شوند.
 - ۴) کنش انسان‌ها همیشه براساس آگاهی صحیح صورت نمی‌گیرد - در مواردی، به جای آن‌که این پدیده‌ها در خدمت سعادت بشر باشند، انسان‌ها را به خشم می‌گیرند.

۱۰

- کدام گزینه به ترتیب در ارتباط با «پیامد غیرارادی درس خواندن» و «پاسخ دادن یا پاسخ ندادن سلام» نادرست و درست است؟
- ۱) مورد تحسین قرار گرفتن - پیامد ارادی کنش فردی است که سلام می‌کند و به اراده‌ی خود او وابسته می‌باشد.
 - ۲) راه یافتن به کلاس بالاتر - پیامد ارادی کنش جواب‌دهنده‌ی سلام است که به اراده‌ی خود او وابسته می‌باشد.
 - ۳) یاد گرفتن درس - پیامد غیرارادی کنش فرد سلام‌کننده است که تشجعی طبیعی کنش او محسوب می‌شود و قطعی می‌باشد.
 - ۴) پاسخ دادن به پرسش‌های آزمون - پیامد ارادی کنش سلام‌کننده است که به اراده‌ی جواب‌دهنده‌ی سلام وابسته می‌باشد.



سخت- سراسری- ۱۳۹۹

۱ از کدام عبارت. مفهوم «کل‌نگری» به درستی دریافت می‌شود؟

۱) مالج‌باشی در کویر مصر (استان اصفهان)

۳) توسعه خطوط حمل‌ونقل در جنگل گلستان (استان گیلان)

۲) احداث موج‌شکن در ساحل بندر انزلی (استان گیلان)

۴) گسترش مناطق مسکونی در زردکوه (استان چهارمحال و بختیاری)

شهید عبدالله رئیسی

SHERR



متوسط - سراسری - ۱۳۹۸

۲) کدام گزینه، به ترتیب به پاسخ دو سؤال کلیدی، چطور، و چه چیز، در ارتباط با دریاچه ارومیه، اشاره می‌کند؟

۱) حفر بی‌رویه چاه‌ها - کاهش بارش در حوضه آبریز دریاچه

۲) تغییر در میزان آب ورودی به دریاچه - گرم شدن عمومی هوا

۳) حفر بی‌رویه چاه‌ها در اطراف دریاچه - کاهش آب دریاچه

۴) نأمین آب دریاچه از طریق چشمه‌های کف - عبور رودهای ورودی از لابه‌های نمکی

شهید عبداللّٰه رئیسی

SHERR

۳ عبارت زیر، از پیامدهای کدام ویژگی عمده‌ی «برنامه آمایش سرزمین» است؟

- الف) توجه به آمایش دفاعی
ب) توجه به ظرفیت‌ها و توانمندی‌های همه‌ی مناطق
ج) توجه به نیازهای حال و آینده
د) توجه به عدالت در توسعه
- ۱) الف و ب
۲) الف و ج
۳) ب و د
۴) ج و د

۴ کدام گزینه با طرح‌های هادی روستایی ارتباطی ندارد؟

- ۱) شناسایی کاربری‌های اراضی قابل کشت و تهیه نقشه از وضع موجود آن
۲) معین شدن ساماندهی کاربری‌های مسکونی، کشاورزی و خدماتی
۳) تعیین چگونگی گسترش روستاها در آینده
۴) ارائه راهکار برای بهبود وضعیت اقتصادی و اجتماعی روستاها

۵ کدام عبارت با ارکان شهر پایدار مغایرت دارد؟

- ۱) استفاده از صفحات خورشیدی در نواحی گرم و خشک برای تامین انرژی
۲) اجرای طرح‌های هادی روستایی
۳) توزیع عادلانه امکانات و خدمات شهری
۴) توسعه خدمات گردشگری و فراغنی

شهید عبدالله رئیسی

۶ دلیل اصلی مهاجرت از روستا به شهر در سده‌ی نوزدهم و اوایل قرن بیستم در آمریکا و اروپا چه موردی بوده است؟
(۱) توسعه صنایع کارخانه‌ای
(۲) انقلاب صنعتی و درخواست برای نیروی کار
(۳) دستمزد بیشتر همراه با امکانات رفاهی بالاتر
(۴) نفوذ شهرگرایی در روستاها و تغییر سریع سبک زندگی

۷ معنای صحیح شهرگرایی در کدام گزینه مطرح شده است؟
(۱) روند اجتماعی شکل‌گیری روستاها به شهر را شهرگرایی می‌گویند.
(۲) به تحولات صنعتی و نفوذ شهرها در سبک زندگی روستایی شهرگرایی می‌گویند.
(۳) تغییرات فرهنگی در سبک زندگی روستایی و میل به شهری شدن را شهرگرایی می‌گویند.
(۴) روند اقتصادی - اجتماعی است که طی آن شیوه‌های زندگی، رفتار و عملکردها، ارزش‌ها و مظاهر شهری در روستا اوج می‌یابد.

شهید عبداللّٰه رئیسی

SHER

- ۸ چه ماههایی از سال، فعالیت برای نیروهای نظامی ایران در جنوب کشور دشوار است؟
- ۱) از اردیبهشت ماه تا مهر ماه
 - ۲) از فروردین ماه تا شهریور ماه
 - ۳) دی ماه تا اسفند ماه
 - ۴) از اوایل پاییز تا اواسط زمستان



- ۹ کدام گزینه با توجه به تصویر زیر، عبارت تدوین شده را به درستی کامل می‌کند؟
- هر مکان در روی زمین ویژگی‌هایی دارد و!
- ۱) میان هر واحد با واحد مجاور تفاوت وجود دارد.
 - ۲) میان اجزا و پدیده‌های آن، نوعی پیوستگی و هماهنگی وجود دارد.
 - ۳) تعیین حدود یک ناحیه، به هدف مطالعه و تحقیق جغرافیدان بستگی دارد.
 - ۴) ویژگی اصلی هر ناحیه، وحدت و همگونی نسبی میان عناصر طبیعی و انسانی است.

- ۱۰ کدام گزینه، پیامد عبارت زیر است؟
- در فصل زمستان و در شرایطی که توده هوا از هوای مجاور خود گرم‌تر می‌شود، در صورت وجود رطوبت، بارندگی صورت می‌گیرد.

- ۱) افزایش بارش در سواحل خزر
- ۲) تراکم رطوبت و بارش در دامنه‌ی غربی زاگرس
- ۳) کاهش اختلاف دما در سواحل شمالی و جنوبی کشور
- ۴) تشکیل ابرهای نیمواستراتوس در دامنه‌ی شمالی البرز

۱) کدام یک از مراحل پژوهش علمی خاصیت دوگانه ای دارد و میتواند به دو هدف پاسخ دهد؟

- ۱) مسئله
۲) نظریه
۳) فرضیه
۴) اصول یا قوانین

۲) مهمترین دلیل دشواری در پیش بینی و کنترل موضوعات مختلف در روان شناسی ناشی از چیست؟
۱) گنگ و مبهم بودن موضوعات روان شناختی
۲) پیچیدگی و دشواری در تبیین و توصیف موضوعات
۳) به قطعیت نرسیدن پژوهش های روان شناختی
۴) وجود نظریات مختلف در روان شناسی

۳) چه عاملی سبب هدفمند بودن پژوهش علمی میشود و مهمترین تفاوت دانشمند و فرد عادی در چیست؟

۱) در جست و جوی چیزی بودن- قاعده مندی و نظام دار بودن مواجهه

۲) داشتن فرایند- در جست و جوی چیزی بودن

۳) در جست و جوی چیزی بودن- داشتن فرایند

۴) داشتن موقعیت نامعین- در جست و جوی چیزی بودن

۴) چرا ویژگی تکرار پذیری در علم روان شناسی با دشواری همراه است؟

۱) پدیده های روان شناختی قاطعیت ندارند.

۲) نظریه پردازان علم روان شناسی ما را از انجام چنین کاری بر حذر داشته اند.

۳) اهمیت مسائل اخلاقی و پیچیدگی پژوهش های مربوط به انسان

۴) نظریات علم روان شناسی مبهم هستند.

۵) کدام یک از گزینه های زیر غلط است؟

۱) روان شناسی یعنی: " علم مطالعه رفتار و فرایند های ذهنی ".

۲) فرایند های ذهنی به طور مستقیم قابل مشاهده نیستند.

۳) اصطلاح " رفتار " محدود به انسان است.

۴) چهارمین مرحله از تفکر، تصمیم گیری است.

۶) کدام گزینه درباره دوقلوهای یک تخمکی نادرست است؟

- ۱) در اغلب موارد همجنس هستند.
- ۲) دارای ویژگی های وراثتی یکسان هستند.
- ۳) از نظر رفتاری یا ویژگی های جسمانی گاهی از یکدیگر قابل تشخیص نیستند.
- ۴) از دو تخمک جدا بوجود نیامده اند.

۷) پایان نوجوانی چه زمانی است؟

- ۱) زمانی که نوجوان به بلوغ عقلی برسد.
- ۲) زمانی که نوجوان به بلوغ جنسی برسد.
- ۳) برخی پایان نوجوانی را زمانی میدانند که فرد کار کند و از پدر و مادر مستقل شود.
- ۴) زمانی که فرد بتواند آزادانه برای خود انتخاب کند.

۸) طبق فرموده پیغمبر اسلام در هفت سال دوم باید با فرد چه رفتاری داشت؟

- ۱) باید بگذاریم آزادانه بازی کند.
- ۲) باید او را تربیت کرده و مفهوم زشتی ها و زیبایی ها را به او بفهمانیم.
- ۳) نباید با او امرانه رفتار کرد.
- ۴) او به منزله مشاور است و باید به وی اعتماد کرد.

۹) به ترتیب در ۲ الی ۵ ماهگی - ۱۱ الی ۱۲ ماهگی و ۷ الی ۱۰ ماهگی کودک چه تغییراتی را تجربه می کند؟

- ۱) غلت زدن - ایستادن مستقل - نشستن مستقل
- ۲) نشستن با کمک - راه رفتن مستقل - بلند شدن از وضعیت نشسته
- ۳) نشستن با کمک - نشستن مستقل - ایستادن با کمک
- ۴) غلت زدن - ایستادن مستقل - ایستادن با کمک

۱۰) توانایی های زبانی کودک به کدام نوع از رشد او مرتبط میشوند؟
۱) رشد جسمانی ۲) رشد شناختی ۳) رشد هیجانی ۴) رشد اخلاقی

۱۱) چرا محرومیت حسی نوعی شکنجه تلقی میشود؟
۱) به دلیل طولانی بودن ۲) به دلیل دریافت نکردن پاداش ۳) به دلیل آزارنده بودن ۴) به دلیل خطرناک بودن

۱۲) خط کشیدن زیر مطالب گوناگون مربوط به کدام یک از مولفه های زیر است؟
۱) یکنواختی و ثبات نسبی ۲) آشنا بودن نسبی با محرک ۳) تغییرات درونی محرک ۴) درگیری و انگیختگی ذهنی

۱۳) لذا کردن از دست دادن برای هشدار کاذب به چه چیزی ارتباط پیدا میکند؟
۱) به اهمیت تکلیف ۲) به دشواری تکلیف ۳) به زمان بر بودن تکلیف ۴) به سهولت تکلیف

شهادت عبدالله رئیس

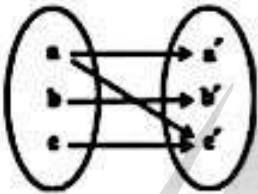
1. اگر دو زوج مرتب $(-1, -6)$ و $(-1, 2m+4)$ با یکدیگر مساوی باشند. در این صورت مقدار m کدام است؟

- (1) -1 (2) 1 (3) -5 (4) 5

2. می‌خواهیم رابطه $f = \{(6, m-1), (5, k), (6, 2n), (n, 10)\}$ تابع نباشد. m و k و n چه مقادیری را می‌توانند اختیار کنند؟

- (1) $k=1, n=1, m=3$ (2) $k=10, n=5, m=1$
 (3) $k=2, n=2/5, m=6$ (4) $k=20, n=1/5, m=4$

3. با توجه به نمودار پیکانی زیر. با حذف کدام عضو و پیکان‌های مربوط به آن. این نمودار پیکانی. تابع می‌شود؟



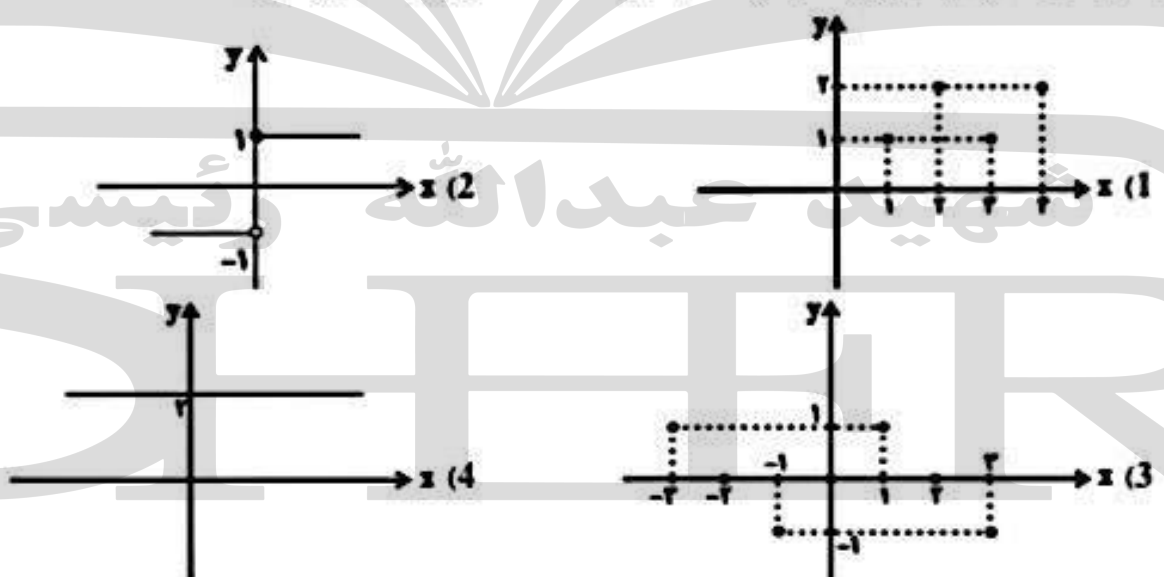
- (1) b (2) b'
 (3) a' (4) c'

4. با توجه به ضابطه و دامنه داده شده. مقدار $a+b$ کدام است؟

$$\begin{cases} f: A \rightarrow B \\ f(x) = -\sqrt{x+1} + 2 \end{cases} \text{ و } A = \{0, 3, 8, 15\}, R_f = \{1, a, b, -2\}$$

- (1) 9 (2) -1 (3) -9 (4) 1

5. با توجه به نمودارهای زیر. نمودار کدام تابع تعداد اعضای برد کمتری دارد؟



6. جواب معادله $\frac{3x-5}{1-2x} = 3$ کدام است؟

$\frac{5}{3}$ (2)
 $\frac{8}{9}$ (4)

$\frac{1}{2}$ (1)
 $\frac{8}{3}$ (3)

7. جواب های معادله $x^2 - 2\sqrt{3}x - 4 = 0$ به فرم $\sqrt{\alpha} \pm \sqrt{\beta}$ هستند. در این صورت $\alpha + \beta$ کدام است؟

10 (2)
6 (4)

17 (1)
8 (3)

8. به ازای کدام مقادیر m معادله $x(mx-2) = 6x+2$ همواره فاقد ریشه حقیقی است؟

$m < -8$ (2)
 $m > 8$ (4)

$m > -8$ (1)
 $m < 8$ (3)

9. اگر حاصل ضرب ریشه های معادله درجه دوم $x^2 + 2x + (1-2k) = 0$ برابر -1 باشد. در این صورت مقدار k کدام است؟

$-\frac{1}{3}$ (2)
 -1 (4)

$\frac{1}{3}$ (1)
1 (3)

10. ریشه های معادله $21x^2 - 40x - 61 = 0$ کدام اند؟

$-\frac{40}{21}, 1$ (2)
 $\frac{61}{21}, -1$ (4)

$-\frac{61}{21}, 1$ (1)
 $\frac{40}{21}, -1$ (3)

شہید عبداللہ رئیسہ

۱- پایه های آوایی مصراع « هر چندگان آرام دل دانه نبخشد کام دل » کدام است؟

(۲) --- / UU --- / --- / UU ---

(۱) -- U / - U --- / -- U / - U ---

(۴) - U - U / - UU - / - U - U / - UU -

(۳) - U - / - U - / - U - / - U - -

۲- پایه های آوایی مصراع « خرم آن کز نازنیان بخت برخوردار داشت » کدام است؟

(۲) -- UU / -- U - / -- UU / -- U -

(۱) - U - / - U - / - U - / - U - -

(۴) - UU / -- U - / -- UU / -- U -

(۳) - U - / - U - / - U - / - U - -

۳- پایه های آوایی مصراع « بدار ای دوست دست از من که طاقت رفت و پایابم » کدام است؟

(۲) --- U / --- U / --- U / --- U

(۱) -- UU / - U - U / -- UU / - U - U

(۴) -- UU / - U - U / -- UU / - U - U

(۴) - U - U / - U - U / - U - U / - U - U

۴- پایه های آوایی مصراع « جای دعوت شاه من بی تو میاد جای تو » کدام است؟

(۲) -- UU / - U - U / -- UU / - U - U

(۱) - U - / - UU - / - U - / - UU -

(۴) - U - U / - UU - / - U - U / - UU -

(۳) -- UU / -- U - / -- UU / -- U -

۵- تقطیع هجایی و ارکان کدام بیت به شکل زیر است؟

شهادت عبدالله رئیس

- U - / - U - / - U - / - U -

دل ز تنهایی به جان آمد خدا را مرهمی

(۱) سینه مالا مال درد است ای دریغا مرهمی

گو در این کار بفرما نظری بهتر از این

(۲) آن که فکرش گره از کار جهان بگشاید

وفای صحبت یاران و همنشینان بین

(۳) حقوق صحبت ما را به باد داد و برفت

تا با تو سنگ دل چه کند سوز و ساز من

(۴) بر خود چو شمع خنده زنان گریه می‌کنم

6- قالب شعری کتاب بوستان سعدی کدام است ؟

د: مثنوی

ج: ترکیب بند

ب: غزل

الف : قصیده

7- شاعری است که با تلفیق عشق و عرفان غزل فارسی را به کمال رساند و شعرش به قول خود او همه

بیت الغزل معرفت است ؟

د: خواجوی کرمانی

ج: مولوی

ب: سعدی

الف : حافظ

شہید عبداللہ رئیس

SHER

8- جامی معروف ترین شاعر قرن نهم که کتاب را به سبک نوشت؟

الف : نفحات الانس - گلستان سعدی ب: بهارستان - گلستان سعدی ج: نفحات الانس - بوستان سعدی د: بهارستان - بوستان سعدی

9- موضوع کتاب اخلاق جلالی در کدام گزینه صحیح تر آمده است؟

الف : تعریف اخلاق و عرفان ب: اخلاق و تصوف ج : اصول عرفان و اخلاق د: اصول اخلاق

10- جریان گرایش نثر به پیچیده نویسی در قرن هفتم در کدام گروه آثار زیر دیده می شود؟

الف : تاریخ و صاف - تاریخ جهانگشای جوینی ب: مرصاد العباد - تاریخ و صاف
ج: طبقات ناصری - تاریخ جهانگشای جوینی د: تاریخ و صاف - طبقات ناصری

شهید عبداللہ رئیس

۱ کدام عبارت درست است؟

- ۱ سوفیست‌ها در استدلال‌های خود بیشتر از مغالطه کمک می‌گرفتند، زیرا می‌خواستند سخنوری را آموزش دهند.
- ۲ سقراط به‌خاطر فروتنی و تواضعی که داشت مایل نبود او را سوفیست بخوانند، بلکه خود را فیلسوفیا معرفی کرد.
- ۳ کلمه‌ی سفسطه در زبان عربی از لفظ «سوفیست» گرفته شده و معنای آن، مغالطه‌کاری است.
- ۴ لفظ فلسفه عربی‌شده‌بب کلمه‌ی فیلسوفوس است و اولین بار فیثاغورس آن را به‌کار برد.

۲ کدام گزینه نادرست است؟

- ۱ هر علمی درباره‌ی یک موضوع یا موجود خاص بحث می‌کند، مانند ریاضیات که درباره‌ی مقدار و کمیت است.
- ۲ همان‌گونه که هر علمی درباره‌ی موضوعی خاص بحث می‌کند فلسفه علاوه بر آن نیز از دسته ویژگی‌های مربوط به موجودیت موجودات بحث می‌کند.
- ۳ علوم درباره‌ی موضوعی خاص از میان موضوعات جهان، زندگی و انسان گفت‌وگو می‌کند.
- ۴ فلسفه درباره‌ی موجود خاص بحث نمی‌کند، بلکه به بررسی درباره‌ی ویژگی‌های موجودات مرتبط با هستی و موجودیت آن‌ها بحث می‌کند.

۳ در کدام مورد، مراحل رسیدن به درک و دریافت فلسفی از یک موضوع، به درستی بیان شده است؟

- ۱ اختلاف نظر متفکران در مورد سعادت ← سعادت چیست؟ ← اعتدال میان قوا، عامل سعادت انسان است. ← سعادت انسان مشروط به وجود عالم آخرت است.
- ۲ آیا علیت در سراسر هستی جاری است؟ ← این عالم یک پدیده است، پس حتماً علنی دارد ← پیر شدن انسان چه علنی دارد؟ ← چون انسان دارای بدن مادی است، پیر می‌شود.
- ۳ از دنیا رفتن یکی از اطرافیان ← آیا مرگ، نبودی و نیستی است؟ ← انسان دارای نفس غیرمادی است ← مرگ انتقال از عالم ماده به عالمی دیگر است.
- ۴ مشاهده‌ی یک دختر بچه‌ی دستفروش ← آیا عدالت در مورد این دختر بچه تحقق یافته است؟ ← چگونه می‌توان فقر را در جامعه کاهش داد؟ ← عدالت، قرار گرفتن هر کس در جای مناسب خویش است.

۴ کدام گزینه در مورد فطرت ثانی نادرست است؟

- ۱ انسان را به حقیقت وجودش نزدیک می‌کند.
- ۲ آدمی را به پرسش درباره‌ی حقیقت وجود برمی‌انگیزد.
- ۳ بی‌اعتنایی مردم عامی به آن باعث کاهش ارزش آن نیست.
- ۴ به تدریج موجب حیرت و به هم ریختن حساب سود و زیان می‌شود.

۵ کدام گزینه شامل عبارت صحیحی درباره سرگذشت فلسفه می‌باشد؟

- ۱ معنای ابتدایی و اولیه‌ی واژه سفسطه در زبان یونانی علم و دانش بود.
- ۲ دلیل قطعی سقراط برای امتناع از سوفیست نامیدن خود، همزده نشدن با آن‌ها بود.
- ۳ فیلسوفیبا، به معنای دوستدار دانش، وصفی بود که سقراط برای خود پسندید و انتخاب کرد.
- ۴ با اینکه سقراط لفظ فلسفه را بر سر زبان‌ها انداخت، او کسی نبود که برای اولین بار آن را به کار برد.

۶ چرا فلسفه‌ی اولی در آثار ارسطو مابعدالطبیعه نام‌گذاری شده است و فیزیک و شیمی در کدام دسته‌ی دانش قرار دارد؟

- ۱ قرار گرفتن نوشته‌های او بعد از بخش طبیعیات - فلسفه‌ی وسطی
- ۲ پرداختن به مباحث فوق عالم طبیعت - فلسفه‌ی وسطی
- ۳ پرداختن به مباحث فوق عالم طبیعت - فلسفه‌ی سفلی
- ۴ قرار گرفتن نوشته‌های او بعد از بخش طبیعیات - فلسفه‌ی سفلی

۷ گزاره‌ی مطرح شده در کدام گزینه صحیح نیست؟

- ۱ پرسشگری، از ویژگی‌های انسان بوده و هر سؤالی که برای ما پیش می‌آید، گویای آن است که به دنبال دانستن چیزی هستیم.
- ۲ تفکر باعث سامان یافتن امور روزانه می‌شود و بدون آن کاری از انسان ساخته نیست.
- ۳ تفکر دارای چهار مرحله است و برای رسیدن به پاسخ لازم است این مراحل به ترتیب طی شوند.
- ۴ عامل تشابه میان دانش‌های مختلف، موضوع و روش آن‌ها است.

۸ در کدام گزینه سؤال فلسفی مطرح شده است؟

- ۱ دلیل حمله‌ی مغول‌ها به چین چه بود؟
- ۲ آیا جریان علم مبتنی بر احتمالات پیش می‌رود؟
- ۳ آیا هر چیزی دارای علت است؟
- ۴ پیدا شدن سلول‌های انسان اثر کدام عامل شیمیایی است؟

۹ کدام عبارت در رابطه با تفکر فلسفی صحیح می‌باشد؟

- ۱ با عبور کردن از فطرت ثانی می‌توان وارد وادی تفکر فلسفی شد.
- ۲ پرداختن به سؤالات بنیادین و تفکر فلسفی از همان روزهای آغاز حیات بشری خود را نشان می‌دهد.
- ۳ برای رسیدن به پاسخ فلسفی باید در اندوخته‌های فلسفی خویش تفکر کرد.
- ۴ هر انسانی در زندگی نیازمند تفکر فلسفی است و همه به آن توجه دارند.

۱۰ کدام عبارت، درست است؟

- ۱ با گذشت زمان، لفظ فلسفه که به معنای دوستداری دانایی بود، بر تمام شاخه‌های دانش، یعنی مطلق دانش به کار رفت، اما سپس برای دانش خاص اطلاق شد.
- ۲ لفظ فلسفه در ابتدا به معنای دوستداری دانایی بود که بعداً برای دانش خاص که هستی‌شناسی است به کار رفت ولی امروزه مطلق دانش را دربر می‌گیرد.
- ۳ فلسفه در یونان باستان به معنای مطلق دانش بود، اما بعد به دانش وجودشناسی اطلاق شد ولی امروزه به معنای دانش خاص است.
- ۴ فلسفه مساوی با هستی‌شناسی یا دانش خاص بود ولی کم‌کم مترادف با دانش شد و فیلسوف نیز به مفهوم دانشمند ارتقا پیدا کرد.

شهید عبداللّٰه رئیسی

SHER

۱ و نهاد جمله را می‌گویند و در قضیه "هر موجود خاکی فناپذیر است"،
و مسند آن است.

- (۱) موضوع، رابطه، محمول، است، موجود، خاکی فناپذیر
(۲) محمول، موضوع، رابطه، هر، موجود خاکی، است
(۳) موضوع، موضوع، محمول، است، موجود، خاکی فناپذیر
(۴) محمول، رابطه، موضوع، هر، موجود خاکی، فناپذیر

فلمجی علوم انسانی دهم آزمون شماره ۱۱ ۱۳۹۸

۲ کدامیک از گزینه‌های زیر در باب تعریف "علم منطق" صحیح است؟

- (۱) منطق دانشی است که ذهن به‌طور غیرطبیعی آن را رعایت می‌کند.
(۲) منطق دانشی است که با کشف ضوابط تفکر، سبب تسریع در تفکر می‌شود.
(۳) منطق دانشی است که با طرح ضوابط و قوانین تفکر، سبب تسریع و بهبود در تفکر می‌شود.
(۴) منطق دانشی است که صرفاً راه درست اندیشیدن را می‌آموزد، اما مانع بروز خطا در هنگام تفکر نمی‌شود.

فلمجی علوم انسانی دهم آزمون شماره ۸ ۱۳۹۶

۳ به ترتیب مشخص کنید هر یک از عبارات زیر مربوط به کدام مفهوم می‌شود؟

"به واقعیت داشتن با نداشتن امر، کاری نداریم"، "حکم و قضاوت نمی‌کنیم"، "اوصافی را به چیزی نسبت می‌دهیم"، "مصدق آن کاملاً مشخص است"

- (۱) تصور - تصدیق - تصدیق - مفهوم جزئی
(۲) تصور - تصور - تصور - تصدیق - مفهوم جزئی
(۳) تصدیق - تصدیق - تصدیق - مفهوم جزئی
(۴) تصدیق - تصور - تصور - مفهوم کلی

فلمجی علوم انسانی دهم آزمون شماره ۸ ۱۳۹۸

۴ کدامیک از گزینه‌های زیر، از شرایط اعتبار قیاس اقتترانی است؟

- (۱) حداقل یکی از دو مقدمه سالبه باشند.
(۲) حدوسط حداقل در یکی از دو مقدمه منفی نباشد.
(۳) مطابقت علامت میان موضوع و محمول در مقدمات و در نتیجه برقرار نباشد.
(۴) موضوع و محمول در نتیجه، علامت منفی داشته باشند.

فلمجی علوم انسانی دهم آزمون شماره ۱۴ ۱۳۹۷

کدامیک از گزینه‌های زیر در رابطه با دامنهٔ مصادیق موضوع و محمول درست نیست؟

۵

- ۱) سور قضایای کلی مشخص می‌کند که همهٔ مصادیق موضوع، موردنظر گوینده است و سور قضایای جزئی نشان می‌دهد که برخی از مصادیق موضوع موردنظر گوینده است.
- ۲) برخی از مصادیق موضوع از طریق سور جزئی و همهٔ مصادیق موضوع از طریق سور کلی مشخص می‌شود و در قضایای سالبه همهٔ مصادیق محمول موردنظر گوینده است.
- ۳) در قضایای موجبه برخی از مصادیق محمول، موردنظر گوینده است چه سور کلی باشد چه سور جزئی باشد.
- ۴) در قضایای موجبه هنگامی که سور، جزئی است، برخی از مصادیق موضوع و برخی از مصادیق محمول موردنظر گوینده است.

قلمچی علوم انسانی دهم آزمون شماره ۱۱ ۱۳۹۷

چه تعداد از عبارات زیر استدلال هستند؟

۶

- الف) سالیانه مبالغ قابل‌توجهی صرف چاپ اسکناس و وسایل مربوط به آن می‌شود که بهره‌گیری از کارت‌ها سبب کاهش هزینه‌های چاپ اسکناس می‌گردد.
- ب) کارت بانکی، کارتی است که در دستگاه‌های خودپرداز مورد استفاده قرار می‌گیرد و توسط بانک صادر می‌شود.
- ج) کارت‌های بانکی حجم مسافرت‌های درون شهری را، به‌منظور دریافت و پرداخت‌های معمولی بانکی، را کاهش می‌دهند.
- د) استفاده از کارت‌های بانکی به‌جای پول، باعث افزایش امنیت در مقابل سرقت، مفقودشدن و از بین رفتن پول نقد می‌گردد.
- هـ) دستگاه ATM دستگاهی الکترونیکی است که با واردکردن کارت و گذرواژه عمل می‌کند.

- ۱) سه
- ۲) چهار
- ۳) دو
- ۴) یک

قلمچی علوم انسانی دهم آزمون شماره ۱۳۹۹

در تصور سر و کار ما با و در تصدیق سر و کار ما با است.

۷

- ۱) وجود - حکم
- ۲) معنا - لفظ
- ۳) وجود - لفظ
- ۴) معنا - حکم

قلمچی علوم انسانی دوازدهم آزمون شماره ۱۴۰۰

به ترتیب در جملات زیر کدامیک از اقسام دلالت لفظ بر معنا به کار رفته است؟

۸

- الف) محبت شما به این محفل گرما بخشید.
- ب) فردا به استرالیا بازمی‌گردم.
- ج) ماشینم را به تعمیرگاه بردم.

- ۱) التزامی - التزامی - مطابقی
- ۲) التزامی - تضمنی - مطابقی
- ۳) مطابقی - تضمنی - تضمنی
- ۴) مطابقی - التزامی - تضمنی

قلمچی علوم انسانی دهم آزمون شماره ۱۳۹۹

تأکید منطق بر آموزش شیوهٔ درست اندیشیدن در رابطه با است.

۹

- هستند ۱) توانایی فراگیری دستورالعمل‌های نظری برای ایجاد بنای فکری مستحکم
- و ارزیابی اندیشه‌های فلسفی ۲) توانایی تشخیص خطاهای ذهنی که بی‌شمار
- عوامل لغزش و خطاهای ذهنی که در زندگی روزمره وجود دارد ۳) توانایی تشخیص
- ۴) توانایی تشخیص

www.konkur.in

اگر در تعریف مثلث بگوییم "شکلی که دارای سه ضلع است" کدام عبارت در مورد این تعریف درست است؟

۱۵

- ۱) در این تعریف از تصدیقی استفاده کرده‌ایم که خود آن تصدیق ترکیبی از چند تصور است.
- ۲) در این تعریف از تصورات معلوم استفاده کرده‌ایم که تشکیل‌دهنده یک تصدیق نیستند.
- ۳) در این تعریف از دو تصدیق استفاده کرده‌ایم که هر تصدیق ترکیبی از چند تصور است.
- ۴) در این تعریف از مفاهیمی استفاده کرده‌ایم که یک تصدیق و دو نسبت در آن وجود دارد.

قلمچی علوم انسانی دوازدهم آزمون شماره ۲۰ ۱۳۹۹

شهید عبداللّٰه رئیسی

SHER