

$y = x + 2|x|$ (2)
 $y = |x - 2| - 2$ (4)

- 1 شکل زیر، نمودار کدام تابع است؟
 1 $y = -|x - 2| + 2$
 2 $y = 2x - |x|$

- 2 اگر تابع f به صورت $f = \{(2, 3), (-1, a + 1), (1, -2)\}$ و تابع g به صورت $g = \{(-2, 4), (1, a^2 + 1), (-1, 2a)\}$ حاصل و $(f - g)(-1) = 2$ باشد، در این صورت حاصل a چقدر است؟
 1 (1) 1
 2 (2) -1
 3 (3) 2
 4 (4) -2

- 3 اگر $f = \{(1, 2), (2, 3), (3, 5), (3, 3)\}$ و $g = \{(3, 2), (2, 3), (6, 1), (1, 8)\}$ برد تابع $g \times f$ کدام است؟
 1 (1) $\{6, 8, 12\}$
 2 (2) $\{3, 6, 12, 16\}$
 3 (3) $\{6, 12, 16\}$
 4 (4) $\{6, 8, 12, 16\}$

- 4 اگر ضابطه تابع $f(x) = x^2 + 1$ و ضابطه تابع $(f - g)(x) = 3x - 3$ باشد، در این صورت ضابطه تابع $g(x)$ برابر کدام گزینه است؟
 1 (1) $(x - 1)^2$
 2 (2) $(x + 1)^2$
 3 (3) $(x - 2)^2$
 4 (4) $(x + 2)^2$

- 5 اگر رابطه $f(x) = \begin{cases} 3x + a & x \geq 0 \\ 4 & x < 0 \end{cases}$ یک تابع باشد، مقدار a برابر کدام گزینه است؟
 1 (1) 2
 2 (2) -2
 3 (3) 4
 4 (4) -4

- 6 اگر $f(x) = a|x|$ و $f(-5, 1) = 2$ باشد، در این صورت مقدار a برابر کدام گزینه است؟
 1 (1) $\frac{1}{3}$
 2 (2) $\frac{2}{3}$
 3 (3) $-\frac{1}{3}$
 4 (4) $-\frac{2}{3}$

- 7 اگر $A = \{(a, a^2 - b^2), (a + b, 4)\}$ یک تابع همانی باشد، در این صورت حاصل $a - b$ برابر کدام گزینه است؟
 1 (1) +2
 2 (2) -2
 3 (3) +4
 4 (4) -4

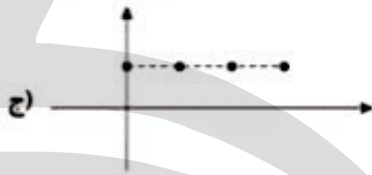
- 8 اگر $f = \{(1, 1), (2, m^2), (m, 1)\}$ یک تابع با برد تک عضوی باشد، آن گاه m چند مقدار تمایز دارد؟
 1 (1) 0
 2 (2) 1
 3 (3) 2
 4 (4) 3

- 9 اگر f تابعی با برد تک عضوی و g تابعی همانی باشد، $f(-5) = 1$ باشد به ازای کدام مقدار m داریم: $\frac{f(m^2) - g(0)}{mg(-1)} = 2$ (دامنه‌های f و g مجموعه اعداد حقیقی هستند).
 1 (1) $\frac{1}{2}$
 2 (2) $-\frac{1}{2}$
 3 (3) 2
 4 (4) -2



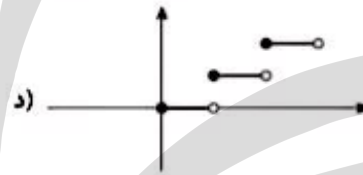
۱۰) چند مورد از توابع زیر، تابع ثابت هستند؟

الف) $\begin{cases} f: \mathbb{Z} \rightarrow \mathbb{R} \\ f(x) = -2 \end{cases}$



۴ ۴

ب) $\begin{cases} h: \mathbb{N} \rightarrow \mathbb{R} \\ f(x) = x \end{cases}$



۳ ۳

۲ ۲

۱ ۱

شهید عبدالله رئیسی

SHERR

۱) بررسی و مطالعه کدام منابع اطلاعات بسیار بااهمیتی درباره آداب و رسوم، فرهنگ، نوع معیشت، ادیان و اعتقادات و ... در اختیار مورخان و پژوهشگران تاریخی قرار می‌دهد؟ کدام عنوان کتاب و کدام مؤلف از جمله این متون و پدیدآوران این آثار می‌باشد؟

- ۱) نوشته‌های جغرافیایی - المسالک و الممالک - ابن خردادیه
- ۲) نوشته‌های جغرافیایی - سفرنامه ناصر خسرو - ناصر خسرو قبادیانی
- ۳) سفرنامه‌ها - المسالک و الممالک - ابن خردادیه
- ۴) سفرنامه‌ها - سفرنامه ناصر خسرو - ناصر خسرو قبادیانی

۲) با گسترش کدام شیوه تاریخ‌نگاری، بین این شیوه و تاریخ‌نویسی محلی، پیوستگی ایجاد شد؟ مشهورترین کتاب این شیوه چه نام دارد و در تاریخ کدام‌یک از گزینه‌های زیر تألیف شده است؟

- ۱) نک‌نگاری - عجائب‌المقدور فی نواب تیمور - تیموریان
- ۲) تاریخ‌های سلسله‌ای - عجائب‌المقدور فی نواب تیمور - غزنویان
- ۳) تاریخ‌های سلسله‌ای - تاریخ بیهقی - غزنویان
- ۴) نک‌نگاری - تاریخ بیهقی - تیموریان

۳) در تواریخ عمومی، نگارندگان، تاریخ اساطیری ایران را از کیومرث آغاز و به پایان کدام سلسله ختم می‌کردند؟ مهم‌ترین و مشهورترین تاریخ عمومی تألیف چه کسی است؟

- ۱) اشکانیان - محمدبن جریر طبری
- ۲) اشکانیان - ابوالفضل بیهقی
- ۳) ساسانیان - ابوالفضل بیهقی
- ۴) ساسانیان - محمدبن جریر طبری

۴) کدام گزینه به ترتیب پاسخ عبارات زیر است؟

- الف - یکی از شاخه‌های تاریخ‌نگاری در ایران است که از قرن ۳ هجری آغاز شد و تا اواخر عصر قاجار تداوم یافت.
- ب - «تاریخ طبری» از مهم‌ترین و مشهورترین تاریخ‌های است.
- ج - این کتاب تألیف ابن عرب‌شاه است.

- ۱) تاریخ‌نگاری عمومی - تاریخ عمومی - عجائب‌المقدور فی نواب تیمور
- ۲) تاریخ‌نگاری عمومی - تاریخ محلی - تاریخ سیستان
- ۳) تاریخ‌های سلسله‌ای - تاریخ محلی - عجائب‌المقدور فی نواب تیمور
- ۴) تاریخ‌های سلسله‌ای - تاریخ عمومی - تاریخ سیستان

۵) در کدام شیوه تاریخ‌نگاری، انگیزه اصلی نویسندگان ثبت و ضبط رویدادهای تاریخی و نگارش زندگی‌نامه مفاخر و مشاهیر بوده است؟ معروف‌ترین اثر تاریخی به این شیوه چه نام دارد؟

- ۱) نک‌نگاری، زندگی شگفت‌آور تیمور
- ۲) نک‌نگاری - تاریخ سیستان
- ۳) تاریخ محلی - زندگی شگفت‌آور تیمور
- ۴) تاریخ محلی - تاریخ سیستان

۶ کتاب‌های «تاریخی بی‌هقی»، «تاریخ طبری»، «فتوح البلدان» و «تجارب‌الامم» به ترتیب به کدام سبک تاریخ‌نگاری به نگارش درآمده‌اند؟

- (۱) روایی - روایی - ترکیبی - تحلیلی
(۲) تحلیلی - روایی - ترکیبی - تحلیلی
(۳) روایی - سال‌شماری - تحلیلی - ترکیبی
(۴) تحلیلی - روایی - موضوعی - ترکیبی

۷ بررسی ویژگی‌های هویتی روایت‌کننده‌ی خبر، جزء کدام یک از مراحل سنجش خبر تاریخی است؟

(۱) مقایسه‌ی راوی با راویان معاصرش
(۲) سنجش اعتبار و نقد راوی
(۳) نقد گزارش‌های روایت‌کننده‌ی خبر
(۴) سنجش گزارش براساس زمان و مکان

۸ در آغاز، از تاریخ‌نگاری روایی، برای ثبت چه اطلاعاتی استفاده می‌شد؟

(۱) فتوحات مسلمین در تواحی شام و عراق
(۲) ذکر احوال خلفا و سلسله‌های اسلامی ایران
(۳) سخنان و سیره‌ی پیامبر و صحابه‌ی ایشان
(۴) وقایع تاریخی قرون اولیه‌ی اسلام و ایران

۹ در تاریخ‌نگاری ترکیبی، مورخ کدام یک از امور زیر را انجام می‌دهد؟

(۱) مطالعه و مطابقت دادن همه‌ی روایت‌ها و تنظیم یک گزارش واحد از مجموع آنها
(۲) بهره‌برداری از دستاوردهای علم باستان‌شناسی
(۳) ذکر روایت‌های مختلف و متعدد درباره‌ی یک موضوع بدون دخل و تصرف در آنها
(۴) تحلیل و تفسیر علل، آثار و پیامدهای واقعه

۱۰ مورخان در دوران اسلامی، گزارش‌ها و نوشته‌های خود را به چند روش تنظیم و ارائه می‌کردند؟

(۱) سال‌شماری و موضوعی
(۲) روایی، ترکیبی و تحلیلی
(۳) روایی و ترکیبی
(۴) موضوعی و تحلیلی

۱ دو جغرافی‌دان قصد دارند تا برای انجام تحقیقات خود یکی بر اساس میزان بارش و دیگری بر اساس قومیت و زبان، یک منطقه را ناحیه‌بندی کنند. کدام معیار به ترتیب طبیعی و کدام یک معیار انسانی می‌باشد؟ تعیین مرزهای دقیق کدام ناحیه دشوارتر است؟

- (۱) بارش، قومیت و زبان - ناحیه بارشی
(۲) بارش، قومیت و زبان - ناحیه قومیتی و زبانی
(۳) قومیت و زبان، بارش - ناحیه قومیتی و زبانی
(۴) قومیت و زبان، بارش - ناحیه بارشی

۲ انتخاب معیارها و ملاک‌ها برای تعیین حدود یک ناحیه به چه عاملی بستگی دارد؟ این عوامل در کدام گزینه به درستی ذکر شده است؟

- (۱) طرز تفکر و شیوه کار جغرافی‌دان - عوامل طبیعی یا انسانی
(۲) هدف مطالعه و تحقیق جغرافی‌دان - عوامل طبیعی یا سیاسی
(۳) طرز تفکر و شیوه کار جغرافی‌دان - عوامل طبیعی یا سیاسی
(۴) هدف مطالعه و تحقیق جغرافی‌دان - عوامل طبیعی یا انسانی

۳ خاک چرنوزیوم چگونه خاکی است و در کدام نواحی کشور کانادا یافت می‌شود؟

- (۱) خاک حاصلخیز غنی از مواد آلی و ریشه علفزارها - شمال
(۲) خاک یخ‌بسته نواحی توندرا - شمال
(۳) خاک حاصلخیز غنی از مواد آلی و ریشه علفزارها - جنوب
(۴) خاک یخ‌بسته نواحی توندرا - جنوب

۴ همه‌ی جمله‌ها، مفهوم درستی از تصویر مقابل، را بیان می‌کنند؛ به‌جز:



(۱) براساس طرز تفکر جغرافی‌دانان، نواحی مختلفی در سطح زمین به وجود آمده است.

(۲) جغرافی‌دانان با استفاده از یک یا چند معیار، سطح زمین را ناحیه‌بندی می‌کنند.

(۳) میان اجزا و پدیده‌ها هماهنگی وجود ندارد.

(۴) حدود و مرزهای جغرافیایی هر ناحیه، توسط جغرافی‌دان روی نقشه ترسیم می‌شود.

- ۵ کدام یک از گزینه‌های زیر از نواحی صنعتی اروپا محسوب می‌شوند؟
- ۱) آلمان - ایتالیا - بلغارستان - پرتغال
 - ۲) انگلیس - لهستان - چک - بلژیک
 - ۳) لیتوانی - مجارستان - کرواسی - پرتغال
 - ۴) فرانسه - ایرلند - نروژ - صربستان

- ۶ جغرافی‌دان‌ها برای تعیین حدود یک ناحیه، چه کاری انجام می‌دهند؟
- ۱) از عوامل طبیعی و انسانی استفاده می‌کنند.
 - ۲) از یک یا چند معیار استفاده می‌کنند.
 - ۳) از وحدت و همگرایی استفاده می‌کنند.
 - ۴) از پیوستگی و هماهنگی بین نواحی استفاده می‌کنند.

- ۷ چرا شهرها، استان‌ها و کشورها نواحی سیاسی محسوب می‌شوند؟
- ۱) به دلیل ویژگی‌های فرهنگی و زبانی
 - ۲) به دلیل انتخاب و تصمیمات سیاسی
 - ۳) دارا بودن مرز مشخص و نظام سیاسی
 - ۴) یک نهاد آن‌ها را اداره و مدیریت می‌کند.

- ۸ عبارت زیر به کدام گزینه ارتباط بیشتری دارد: مهاجرت روستاییان از یک ناحیه یا وقوع خشکسالی، وسعت یک ناحیه کشاورزی را کاهش می‌دهد یا ممکن است به کلی آن ناحیه را به ناحیه‌ای غیرکشاورزی تبدیل کند.
- ۱) مرزهای نواحی قابل تغییرند.
 - ۲) تعیین مرزهای دقیق نواحی دشوار است.
 - ۳) قلمرو و وسعت نواحی، متفاوت است.
 - ۴) مرزهای سیاسی و اداری معمولاً بر مرزهای نواحی طبیعی و انسانی منطبق نیستند.

- ۹ متن زیر با کدام یک از مفاهیم زیر مطابقت دارد؟
- «در دهه‌های اخیر، فناوری به کمک انسان آمده و سبب شده که انسان در محیط، تأثیر بسیاری بگذارد. فناوری‌های جدید، انسان را قادر به بهره‌برداری از اعماق زمین کرده و میزان دسترسی انسان را در محیط طبیعی گسترش داده است.»
- ۱) عملکرد انسان در ارتباط با محیط‌های طبیعی به صورت نگاه سودجویانه است.
 - ۲) در نتیجه اقدامات انسان، محیط طبیعی به محیط جغرافیایی تبدیل می‌شود.
 - ۳) بسیاری از فعالیت‌های انسان در محل معینی از محیط طبیعی انجام می‌شود.
 - ۴) محیط طبیعی همانند محیط جغرافیایی، مجموعه‌ای متعادل محسوب می‌شود.

- ۱۰ کدام گزینه، مفهوم درستی از عبارت «قلمرو و وسعت نواحی، متفاوت است»، ارائه می‌دهد؟
- ۱) یک ناحیه می‌تواند گاهی در یک ناحیه سیاسی و گاهی یک ناحیه طبیعی باشد.
 - ۲) یک ناحیه می‌تواند گاهی یک زیست‌بوم طبیعی و گاهی یک ناحیه مذهبی باشد.
 - ۳) یک ناحیه می‌تواند گاهی در وسعت یک روستا و گاهی در وسعت یک کشور باشد.
 - ۴) یک ناحیه می‌تواند گاهی منطبق بر مرزهای طبیعی و گاهی مرزهای انسانی باشد.

شهادت عبدالله رئیس‌دی

- ۱ به ترتیب در کدام گزینه ترکیب «شناخت پایه»، «شناخت عالی»، «شناخت عالی» و «شناخت پایه» به کار رفته است؟
- (۱ استدلال - تصمیم‌گیری - ادراک - توجه
 (۲ حافظه - تصمیم‌گیری - حل مسئله - ادراک
 (۳ ادراک - حافظه - حل مسئله - تصمیم‌گیری
 (۴ فضاوت - توجه - ادراک - حل مسئله

- ۲ در کدام گزینه، تصمیم‌گیری کارآمدتر است و به چه دلیل؟
- (۱ علی برای سال تحصیلی جدید، لوازم‌التحریری را خریداری می‌کند که طول عمر بیشتری داشته باشد - زیرا تصمیم‌گیری مبتنی بر پردازش مفهومی است.
 (۲ سارا هر لباس فرمزی را به محض دیدن آن خریداری می‌کند - زیرا تصمیم‌گیری مبتنی بر پردازش ادراکی است.
 (۳ زهرا برای خرید وسایل جهیزیه‌ی خود به قیمت آن‌ها توجه می‌کند - زیرا تصمیم‌گیری مبتنی بر پردازش ادراکی است.
 (۴ رضا معتقد است هر چه تلویزیون بزرگ‌تر باشد، بادوام‌تر است - زیرا تصمیم‌گیری مبتنی بر پردازش مفهومی است.

- ۳ به ترتیب «فرآیند استفاده از اطلاعات موجود در حافظه» و «فرآیند تفسیر و معنابخشی به محرک‌های انتخابی» چه نام دارد؟
- (۱ ادراک - تفکر
 (۲ ادراک - توجه
 (۳ تفکر - توجه
 (۴ تفکر - ادراک

- ۴ «تلاش جهت یافتن علل ضعف و شکست شغلی افراد»، بیانگر کدام مفهوم زیر است؟
- (۱ توصیف
 (۲ کنترل
 (۳ پیش‌بینی
 (۴ تبیین

- ۵ شناسایی موقعیت‌های ناشناخته و مجهول توسط دانشمند از کدام طریق اتفاق می‌افتد؟
- (۱ روش تجربی
 (۲ طرح مسئله
 (۳ روشن‌سازی موقعیت نامعین
 (۴ طرح فرضیه

- ۶ فرآیند بازنمایی اطلاعات موجود در حافظه چه نام دارد؟
- (۱ تفکر
 (۲ احساس
 (۳ ادراک
 (۴ توجه

- ۷ موفقیت در رسیدن به پیش‌بینی و کنترل یک پدیده، به کدام‌یک از موارد زیر بستگی دارد؟
- (۱ رعایت مسائل اخلاقی
 (۲ دور سطح ظاهری و تجربی
 (۳ چگونگی توصیف و تبیین
 (۴ منابع کسب شناخت

۸ معنای پختگی کدام است؟

- ۱) تغییرات در طول زندگی
- ۲) به ارث بردن صفات از والدین
- ۳) بارور کردن تخمک مادر با اسپرم پدر
- ۴) رفتارهای وابسته به آمادگی زیستی

۹ فرهاد جهت ارتقای پیشرفت تحصیلی تصمیم می‌گیرد احتمال‌های مختلف را بررسی کند تا با اجرای یکایک آنها نمرات درسی افزایش یابد. به نظر شما تصمیم فرهاد بیانگر کدام جنبه رشد و مخصوص کدام یک از دوره‌های رشدی است؟

- ۱) هیجانی - نوجوانی
- ۲) شناختی - نوجوانی
- ۳) اخلاقی - کودکی
- ۴) اجتماعی - کودکی

۱۰ کدام عبارت، از ویژگی‌های رشد در طی دوره‌ی کودکی است؟

- ۱) در اوایل بازی‌های مشترک و گروهی انجام می‌دهند، اما به تدریج به بازی‌های انفرادی می‌پردازند.
- ۲) بعد از نشان دادن هیجانات ساده پشیمانی و ترحم، هیجانات مرکب ترس و محبت را نشان می‌دهند.
- ۳) بعد از دستیابی به مهارت‌های حرکتی ظریف بلافاصله می‌توانند حرکات درشت را با مهارت انجام دهند.
- ۴) در اوایل درکی از اخلاق ندارند، اما به تدریج اصول و قوانین تعیین‌کننده‌ی رفتار با دیگران را یاد می‌گیرند.

شهید عبدالله رئیسی

1- سبک عراقی از چه قرنی تا چه قرنی سبک غالب متون ادب فارسی بود؟

الف: اوایل قرن پنجم تا اوایل قرن نهم ب: اوایل قرن هفتم تا اوایل قرن دهم ج: اوایل قرن ششم تا اوایل قرن نهم د: اوایل قرن هفتم تا اوایل قرن نهم

2- از شاخص ترین شاعران عارف است که در دو محور اندیشه و احساس آثار جاودانه ای پدید آورد؟

الف: فخرالدین عراقی ب: سعدی ج: حافظ د: مولوی

3- کدامیک از شاعران نامبرده ذیل مربوطه به قرن هشتم می باشد؟

الف: سلمان ساوجی ب: سعدی ج: مولوی د: جامی

4- مثنوی عشاق نامه اثر کیست؟

الف: فخرالدین عراقی ب: عطا ملک جوینی ج: نجم الدین رازی د: سلمان ساوجی

5- شاعری که غزل های او بر حافظ تاثیر گذار بود

الف: سلمان ساوجی ب: خواجه کرمانی ج: فخرالدین عراقی د: سعدی

۲- تقطیع هجایی و ارکان دقیق کدام مصراع بدون اعمال اختیارات شاعری در برابر آن، درست صورت نگرفته است؟

(۱) گر تو شکیب داری طاقت نماند ما را -- U/ - U -- / -- U/ - U --

(۲) حکمش رسد ولیکن حدی بود جفا را -- U/ - U -- / -- U/ - U --

(۳) کاسایمی نباشد بی دوستان بقا را -- U/ - U -- / -- U/ - U --

(۴) پس هر چه پیشت آید گردن بنه قضا را -- U/ - U -- / -- U/ - U --

۷- وزن کدام یک از ابیات زیر از تکرار چهار بار « - - - U » ساخته شده است؟

بیان کند که چه بودست ناشکیبا را

(۱) تو را در آینه دیدن جمال طلعت خویش

بدین صفت که تو داری کمان ابرو را

(۲) هزار صید دلت پیش تیر باز آید

به نقد اندر بهشتت آن که باری مهربان دارد

(۳) مرا گر دوستی با او به دوزخ می برد شاید

که کید سحر به ضحاک و سامری اموخت

(۴) غلام آن لب ضحاک و چشم قاتم

۸- وزن همه ی گزینه ها یکسان است؛ به جز:

بر باد فلأشی دهیم این شرک تقوا نام را

(۱) برخیز تا یک سو نهیم این دلق ازرق فام را

توحید بر ما عرضه کن تا بشکنیم اصنام را

(۲) هر ساعت از نو قبله‌ای بابت پرستی می رود

تا کونکان در پی فتند این پیر در داشام را

(۳) می با جوانان خوردنم باری تمنا می کند

پیرانه سر مکن هنری ننگ و نام را

(۴) ای دل شهاب رفت و نچیدی گلی ز عیش

۹- خوشه های هجایی و پایه های آوایی کدام گزینه، به درستی تعیین نشده است؟

(۱) دل سودازده از غصه دونیم افتادست (دل سو دا | ز د از غص | ص دو نی مف | تا نست)

(۲) دل من در هوس روی تو ای مونس جان (دل من در | هوس | رو ی ت ای | مون س جان)

(۳) وانکه این کار ندانست در انکار بماند (وان ک این کار | ن دانست | در انکار | بماند)

(۴) گشت بیمار که چون چشم تو گردد نرگس (گشت ب بیمار | که چون چشم | تو گردد | نرگس)

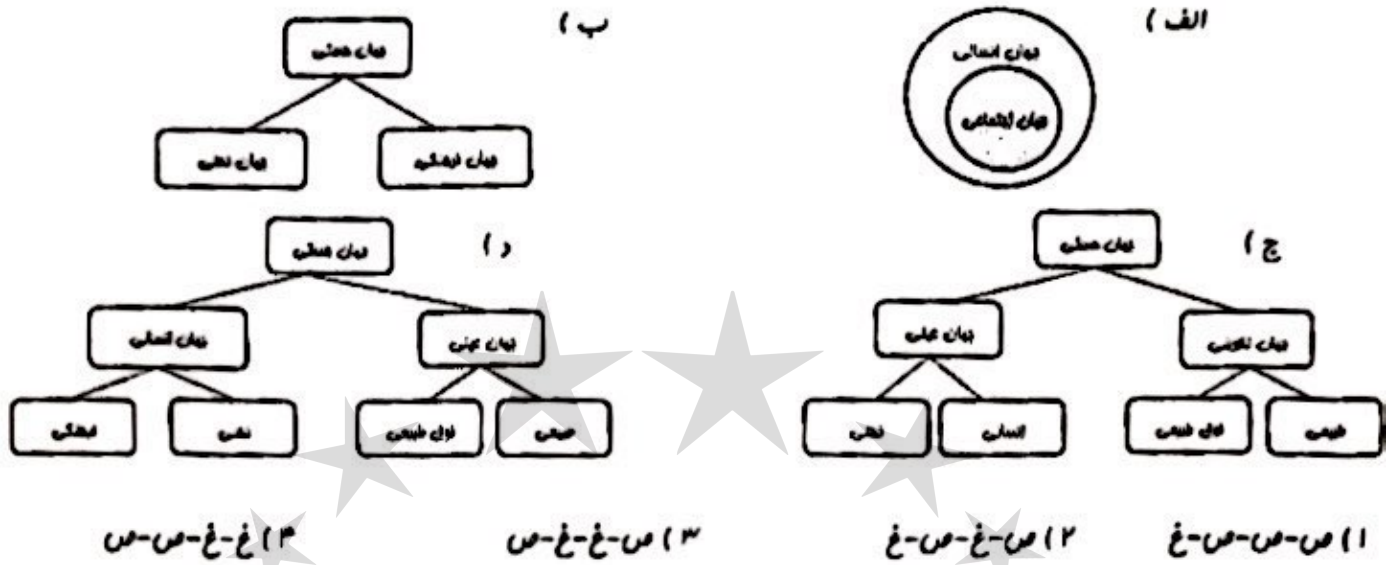
۱۰- خوشه های هجایی و پایه های آوایی کدام گزینه، به درستی تعیین نشده است؟

(۱) با آنکه از وی غایبم وز می جو حافظ تا بیم (با آن ک از | وی غای ب | م | وز می | ج | ح | حافظ | تا ب | م)

(۲) قلب بی حاصل ما را بزن اکسیر مراد (قلب بی | حاصل | ما را | بزن | اکسیر | مراد)

(۳) زار و بیمار غم راحت جانی به من آر (زار و بیمار | غم راحت | جانی | به من | آر)

(۴) جاودان کس نشنیدیم که در کار بماند (جاودان | کس | نشنیدیم | که در کار | بماند)



۲- در نگاه فراتر از جهان عینی و لبراک و آگاهی و جهان عینی بر اساس کلمت و مشیت فرولند سپهان دارد .

۱ همان جهان انسانی است - محدود به هیات انسان نمی باشد - با فطرت انسانی مطابقت .

۲ محدود به جهان طبیعت نیست - محدود به هیات انسان می باشد - رفتاری حکیمانه با انسان و جامعه انسانی

۳ همان جهان تکوینی است - محدود به هیات انسان می باشد - با فطرت انسانی مطابقت

۴ محدود به جهان طبیعت نیست - محدود به هیات انسان نمی باشد - رفتاری حکیمانه با انسان و جامعه انسانی

۳- به ترتیب عبارات « جهان عینی و طبیعی ماده ی قلمی در معرض برداشت ها و تصورات مختلف فرهنگی و اجتماعی انسان ها است . »

و تاکید بر مسئولیت فرد در قبال فرهنگ و جامعه ، و در تعامل با هم دانستن هر دو جهان فرهنگی و عینی ، به کدام نظریه ها تعلق دارند ؟

۱) نظر دوم - نظر دوم - نظر سوم
 ۲) نظر دوم - نظر سوم - نظر سوم

۳) نظر اول - نظر دوم - نظر دوم
 ۴) نظر سوم - نظر سوم - نظر اول

۳- جهان مستقل از فواست و اعتبار انسانی وجود ندارد . نزد متفکران مسلمان ، جهان طبیعت بخشی از جهان است و گروهی

که بین علوم طبیعی ، انسانی و اجتماعی تفاوتی واقعی قائل نیستند . (سراسری ۹۳)

۱) عینی - عینی و تکوینی - جهان عینی را مهم تر از جهان ذهنی و جهان فرهنگی می دانند .

۲) عینی - ذهنی و فردی - جهان فرهنگ را مهم تر از جهان ذهنی و جهان طبیعی و عینی می دانند .

۳) ذهنی - عینی و تکوینی - جهان فرهنگ را مهم تر از جهان ذهنی و جهان طبیعی و عینی می دانند .

۴) فرهنگی - ذهنی و فردی - هر دو جهان فرهنگی و جهان عینی را مهم و در تعامل با یکدیگر می دانند .

۵ - به ترتیب کدام یک نظر کسانی است که جهان فرهنگی را مهم تر از جهان ذهنی و جهان طبیعی و عینی می دانند و کدام یک دیدگاه گروهی است که جهان عینی را به جهان طبیعت محدود می کنند ؟ (سراسری ۹۲)

- ۱ (بین علوم طبیعی ، انسانی و اجتماعی تفاوت واقعی وجود ندارد - ذهن افراد و فرهنگ جامعه هویتی طبیعی و مادی دارند .
۲ علوم مربوط به ذهن افراد و فرهنگ جامعه علوم طبیعی است - جهان ذهنی و فردی افراد را تابع فرهنگ جامعه می دانند .

۳ جهان ذهنی و فردی افراد تابع فرهنگ جامعه است - ذهن افراد و فرهنگ جامعه هویتی طبیعی و مادی دارند و علوم مربوط به آن ها لقب علوم طبیعی است .

۴ (ذهن افراد و فرهنگ جامعه هویتی طبیعی دارند-جهان عینی و طبیعی را ماره فانی می دانند که در معرض تصرفات مختلف فرهنگی و اجتماعی انسان ها قرار می گیرد.

۶ - جهان هستی از چه جهان هایی تشکیل شده است . کدام جهان شامل دو بخش ذهنی و فرهنگی است و کدام جهان دارای دو بخش طبیعی و فوق طبیعی است ؟ (به ترتیب) سنبلش ۹۳

- ۱ (تکوینی و انسانی . عینی . انسانی
۲ (فرهنگی و عینی . تکوینی . انسانی
۳ (عینی و تکوینی . انسانی . ذهنی
۴ (عینی و انسانی . انسانی . عینی

۷ - آنچه با اندیشه و عمل انسان پریر می آید مربوط به چه جهانی است ؟ جهان فرهنگی در برابر کدام جهان قرار داده می شود و هر فرد بر چه اساسی مسائل روزمره زندگی خود را تفسیر می کند و کدام جهان پیش از انسان وجود داشته است ؟ سنبلش ۹۳

- ۱ (انسانی - ذهنی - عقاید و ارزش های خود - عینی
۲ (فرهنگی - ذهنی - لمصوبیات ذهنی خود - عینی
۳ (انسانی - عینی - هنرها و رفتارهای خود - ذهنی
۴ (اجتماعی - انسانی - عقاید و ارزش های خود - ذهنی

۸ - کدام عبارت در ارتباط با جهان عینی درست نیست ؟ سنبلش ۹۳

- ۱ (همان طور که بین جهان ذهنی و فرهنگی ارتباط وجود دارد ، بین دو جهان عینی و انسانی نیز ارتباط وجود دارد .
۲ (در برابر جهان فرهنگی می توان از جهان عینی تام برد که جهانی مستقل از فواست و لرداه انسان وجود دارد .

۳ (نزد متفکرین مسلمان ، جهان طبیعت بخشی از جهان عینی و تکوینی است و آن ها جهان عینی را به دو جهان طبیعت و فوق طبیعت تقسیم می کنند .

۴ (جهان عینی پیش از انسان وجود داشته است و در تعبیر قرآنی ، از عوالم عینی و تکوینی با عناوینی مانند دنیا و آخرت یاد می شود .

۹ - گروهی که جهان فرهنگی را مهم تر از جهان ذهنی و طبیعی می دانند معتقدند که جهان ذهنی و فردی افراد می باشد و جهان عینی و طبیعی نیز ماره فانی است که در معرض برداشت ها و تصرفات قرار می گیرد . سنبلش ۹۲

- ۱ (دارای هویتی طبیعی- علمی افراد
۲ (تابع جهان عینی - فرهنگی افراد
۳ (تابع فکر و اندیشه افراد - علمی انسان ها
۴ (تابع فرهنگ جامعه - فرهنگی و اجتماعی انسان ها

۱۰ - در نگاه قرآنی ، جهان عینی محدود به و ادراک و آگاهی نیز محدود به

- ۱ (جهان طبیعت نیست - هویت مادی و طبیعی است .
۲ (جهان طبیعت نیست - هیات انسانی نمی باشد .
۳ (تابع فکر و اندیشه افراد - علمی انسان ها
۴ (تابع فرهنگ جامعه - فرهنگی و اجتماعی انسان ها